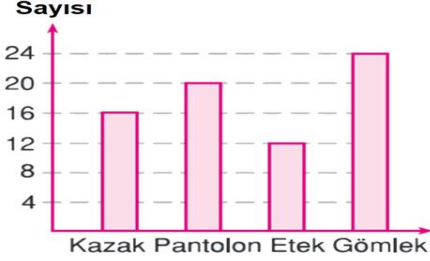


[illegible]

11. Aşağıdaki kesirlerle toplama ve çıkarma işlemlerini yapınız. (12p)

| | |
|---------------------------------|-------------------------------|
| $\frac{3}{9} + \frac{4}{9} =$ | $\frac{4}{7} + \frac{2}{7} =$ |
| $\frac{8}{12} - \frac{4}{12} =$ | $\frac{6}{8} - \frac{1}{8} =$ |

12.



Yukarıdaki sütun grafiğinde, bir mağazada bir günde satılan ürünlerin sayısı gösterilmiştir.

Aşağıdaki soruları yukarıdaki sütun grafiğine göre cevaplayınız. (10p)

En fazla satılan ürün hangisidir?

Kaç tane kazak satılmıştır? :

Kaç tane etek satılmıştır?:

En az satılan ürün hangisidir? :

En çok satılan ürün ile en az satılan ürünün farkı kaçtır?

13. Aşağıda verilen çetele tablosuna göre hangisi yanlıştır? (3p)

| Tüketilen Ekmek Miktarı | |
|-------------------------|---------------|
| Günler | Ekmek Miktarı |
| Pazartesi | //// |
| Çarşamba | /// |
| Cuma | ///- |
| Pazar | ///- / |

- A. Tüketilen ekmek sayısı en fazla pazar günüdür.
 B. Tüketilen ekmek miktarı en az çarşambadır.
 C. Toplam 20 ekmek tüketilmiştir.
 D. Cuma günü 5 ekmek tüketilmiştir.

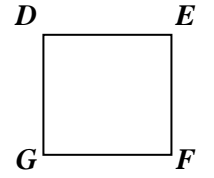
14. (3p)

$$\begin{array}{r} \square \square \square \square \square \\ - \square \square \square \square \square \\ \hline \square \square \square \square \square \end{array}$$

Yukarıdaki bölme işleminde bölünen **e** çok kaç olabilir?

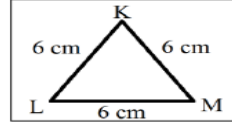
- A. 116 B. 109
 C. 108 D. 104

15. Yandaki kareyi aşağıdakilerde hangisi ile adlandıramayız? (3p)

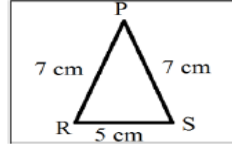


- A) DEFG B) GDEF
 C) GFED D) EGFD

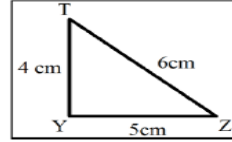
16. Aşağıdaki üçgenleri kenar uzunluklarına göre çeşitleriyle eşleştiriniz. (3p)



Çeşitkenar Üçgen



Eşkenar Üçgen



İkizkenar Üçgen

17. Küp ile ilgili bilgilerden hangisi yanlıştır? (3p)

- A. 6 kare yüzeyi vardır.
 B. 4 köşesi vardır.
 C. 12 ayrıtı vardır.
 D. Küpün farklı açınımları vardır.

18. Aşağıda verilen dönüşümleri yapınız. (6p)

- 2 saat 30 dakika = dakika
- 4 hafta gün.
- 240 saniye =dakika
- 1 gün saat
- Bir saat dakika
- 2 dakika saniye

19. Aşağıdaki boş yerlere uygun olan açı çeşitlerini yazınız. (dar – geniş – dik – doğru) (4p)

Ölçüsü 180° olan açıya açı denir.

Ölçüsü 90° olan açıya açı denir.

Ölçüsü 90°den küçük olan açıya açı denir.

Ölçüsü 90°den büyük, 180° den küçük olan açıya açı denir.

20. Aşağıdaki işlemleri yapınız. (10p)

| | | | | | | |
|---|---|---|---|---|--|--|
| | 2 | 7 | 0 | 5 | | |
| - | | | | | | |
| | | | | | | |
| - | | | | | | |
| | | | | | | |

| | | | | |
|---|---|---|---|---|
| | | 2 | 5 | 2 |
| | x | | 3 | 2 |
| | | | | |
| + | | | | |
| | | | | |